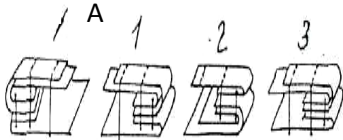
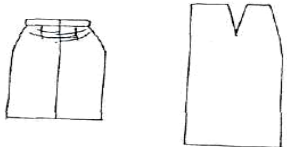
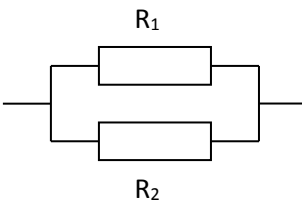
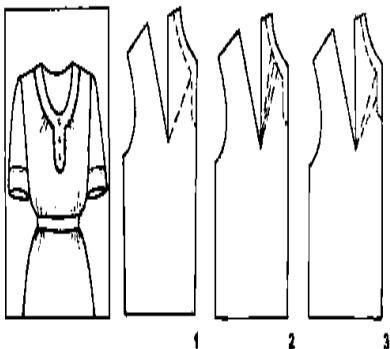


КВНЗ «Харківська академія неперервної освіти»
Запитання (завдання) теоретичного туру II етапу Всеукраїнської учнівської
олімпіади з трудового навчання

Обслуговуючі види праці (8 – 9 класи)
2018/2019 навчальний рік

№ з/п	ЗАПИТАННЯ (ЗАВДАННЯ)	МОЖЛИВІ ВАРИАНТИ ВІДПОВІДІ	МАКСИМАЛЬНИЙ БАЛ	НАБРАНИЙ БАЛ
1	Укажіть, які властивості тканини належать до фізичних:	а) гігроскопічність; б) щільність; в) товщина; г) зсідання.	1	
2	Укажіть, до яких властивостей тканини належать драпірувальність:	а) технологічних; б) механічних; в) фізичних; г) фізико-механічних.	1	
3	Укажіть, який фактор впливає на послідовність виготовлення спідниці:	а) колір тканини; б) наявність складок; в) довжина виробу; г) товщина тканини.	1	
4	У яких одиницях указують лінійні розміри на кресленнях:	а) метрах; б) дециметрах; в) сантиметрах; г) міліметрах.	1	
5	Визначте, які волокна не належать до синтетичних:	а) капронові; б) віскозні; в) лавсанові; г) ацетатні.	1	
6	Як буде виглядати шов, якщо на нього дивитися в напрямку стрілки А?		1	
7	Які причини обриву верхньої нитки в швейній машині?	1. Неправильне заправлення верхньої нитки. 2. Тупа і зігнута голка. 3. Коротка голка. 4. Надмірний натяг нижньої нитки. 5. Надмірний натяг верхньої нитки.	1	
8	Найбільшу кількість кальцію містить:	1. Сметана. 2. Кефір. 3. Сир. 4. Молоко.	1	
9	Укажіть спосіб усунення такої несправності швейної машини, як обрив нижньої нитки	1. Правильно заправити верхню нитку. 2. Відрегулювати виступ зубців механізму	1	

		<p>переміщення рейки.</p> <p>3. Посилити притиснення лапки.</p> <p>4. Правильно заправити нижню нитку.</p>		
10	При стерилізації банки з продуктами, які консервуються, ставлять у ємкість	<p>1. З киплячою водою.</p> <p>2. З холодною водою.</p> <p>3. З водою, температура якої близька до температури банки.</p> <p>4. Температура води не має значення.</p>	1	
11	Як називається найтовща частина машинної голки?	<p>1. Вушко.</p> <p>2. Лезо.</p> <p>3. Вістря.</p> <p>4. Колба.</p>	1	
12	Дієта – це:	<p>1. Обізнаність населення у питаннях здорового раціонального харчування.</p> <p>2. Певний режим харчування.</p> <p>3. Набір і кількість їжі для людини на певний проміжок часу.</p> <p>4. Сукупність способів переробки продуктів, приготування страв.</p>	1	
13	Перед варінням замочують, а потім варять:	<p>1. Квасоллю.</p> <p>2. Гречану крупу.</p> <p>3. Пшоно.</p> <p>4. Манні крупи.</p>	1	
14	Доповніть речення: Нитку в голку швейної машини заправляють з боку...	<p>а) короткого жолобка, щоб човник міг захопити верхню нитку;</p> <p>б) довгого жолобка, щоб був рівномірним натяг нитки;</p> <p>в) короткого жолобка, щоб нитка не перетиралася;</p> <p>г) довгого жолобка, щоб регулювати натяг нитки;</p> <p>д) довгого жолобка, щоб не перетиралася нитка.</p>	2	
15	Гігроскопічність – це...	<p>_____</p> <p>_____</p> <p>_____</p>	2	
16	Назвіть геометричні властивості тканини.	<p>_____</p> <p>_____</p> <p>_____</p>	2	
17	Зсіданність – це...	<p>_____</p> <p>_____</p>	2	

18	<p>Як необхідно змінити викрійку, щоб усунути горизонтальні заломы в пояському виробі?</p> 	<hr/> <hr/> <hr/> <hr/> <hr/> <hr/> <hr/>	3	
19	<p>Розрахувати: резистори з опорами 40 Ом та 120 Ом, з'єднані паралельно. Через який з них іде більший струм? У скільки разів?</p>		3	
20	<p>Виберіть рисунок, на якому нанесені лінії фасону переду на креслення відповідно до моделі. а) рис.1 б) рис.2 в) рис.3</p>		3	
Кількість балів			30	
Набрано балів				

Увага!

1. Побудови та розрахунки можна виконувати на додатковому аркуші паперу.
2. На виконання теоретичного завдання відводиться 60 хвилин.

Результати виконання завдань теоретичного туру

(заповнюється журі)

Кількість балів за питання №№

Кількість балів за питання №№

Кількість балів за питання №№

Кількість балів за питання №№

Усього балів:

Члени журі:

підпис

П.І.Б.

підпис

П.І.Б.

підпис

П.І.Б.

підпис

П.І.Б.