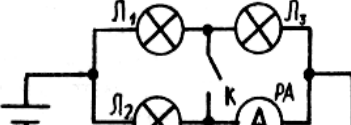
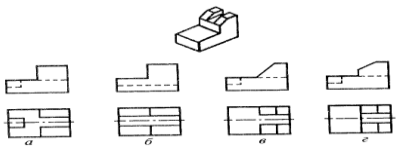



КВНЗ «Харківська академія неперервної освіти»
Запитання (завдання) теоретичного туру II етапу Всеукраїнської учнівської олімпіади з трудового навчання
Обслуговуючі види праці (10 – 11 класи)
2018/2019 навчальний рік

№ з/п	ЗАПИТАННЯ (ЗАВДАННЯ)	МОЖЛИВІ ВАРІАНТИ ВІДПОВІДІ	МАКСИМАЛЬ-НИЙ БАЛ	НАБРАНИЙ БАЛ
1	Укажіть, які властивості тканини належать до гігієнічних:	а) гігроскопічність; б) щільність; в) товщина; г) зсідання.	1	
2	Інтенсивний шлях виробництва – це:	а) розширення виробництва за рахунок збільшення кількості підприємств; б) використання сучасних технологій, техніки, організації праці; в) залучення нової робочої сили.	1	
3	Укажіть, як називається тимчасове з'єднання нитками малої деталі при накладанні її на велику деталь:	а) зметування; б) наметування; в) приметування; г) зшивання.	1	
4	Укажіть, як називається з'єднання двох або кількох деталей, приблизно однакових за розмірами:	а) зметування; б) наметування; в) приметування; г) зшивання.	1	
5	Зазначте, як називається зменшення товщини шва, згину чи краю деталі прасуванням:	а) розпрасування; б) пропрасування; в) припрасування; г) запрасування.	1	
6	Укажіть відсоток білків, що містяться в м'ясі риби:	а) 20-40%; б) 10-20%; в) 15-20%; г) 5-10%.	1	
7	Вкажіть, які властивості тканини відносяться до механічних:	а) гігроскопічність; б) щільність; в) товщина; г) міцність.	1	
8	Який з етапів розробки та виготовлення одягу відсутній?	а) художнє моделювання; б) конструювання; в) технічне моделювання; г) виготовлення лекал; д) пошиття; е) контроль якості готового виробу.	1	
9	Які розпушувачі застосовують для даних видів тіста?	1. Дріжджове. 2. Пісочне. 3. Бісквітне.	1	

		4. Листкове. а) біохімічні; б) хімічні; в) механічні; г) біологічні.		
10	Як намалювати предмет, якщо його розміри перевищують розміри формату креслярського паперу?	А. Зобразити предмет з вирізом його центральної частини. Б. Взяти формат, що відповідає розмірам предмета. В. Намалювати предмет без дотримання розмірів. Г. Виказати предмет в масштабі. Д. Спростити контури зображень предмета.	1	
11	Для пришивання оздоблювальних матеріалів слід використовувати нитки	а) білі; б) колір тканини; в) контрастні до кольору тканини; г) чорні; д) під колір оздоблювального матеріалу; к) онтрастні до кольору оздоблення.	1	
12	Щоб виріб не деформувався в процесі ВТО, праску треба переміщувати	а) круговими рухами. б) здовж ниток основи. в) у діагональному напрямку. г) у будь-якому напрямку.	1	
13	Доповніть: Творчо продумане поєднання різних елементів візерунку в єдине ціле за змістом, кольоровою гамою, характером форм і розташуванням називається	_____	2	
14	Доповніть: Залежно від породи полімеру хімічні волокна поділяються на	_____	2	
15	Доповніть: Кулінарія – це	_____	2	
16	Опишіть із чого складається собівартість товару	_____	2	
17	Після замикання ключа К в електричному колі: 	1. Лампа Л1 буде горіти без змін. 2. Лампа Л2 буде горіти більш яскраво.	2	

		3. Лампа Л1 буде горіти більш яскраво. 4. Лампа Л2 буде горіти більш тьмяно.		
18	Яким проекціям відповідає даний предмет?		2	
19	Замалуйте три способи обробки верхнього зрізу нагрудника фартуха.	_____	2	
20	Виконайте моделювання поли сукні у відповідності з малюнком.		4	
	Кількість балів		30	
	Набрано балів			

Увага!

1. Побудови та розрахунки можна виконувати на додатковому аркуші паперу.
2. На виконання теоретичного завдання відводиться 60 хвилин.

Результати виконання завдань теоретичного туру

(заповнюється журі)

Кількість балів за питання №№

Кількість балів за питання №№

Кількість балів за питання №№

Кількість балів за питання №№

Усього балів:

Члени журі:

підпис

П.І.Б.

підпис

П.І.Б.

підпис

П.І.Б.

підпис

П.І.Б.